

中学受験

(演習用)

実戦的解法による

分野別算数 1000

ファイル No. 474

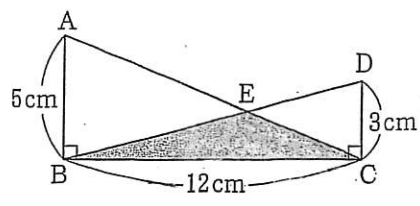
35-J 比と面積(1)

中受ゼミ G

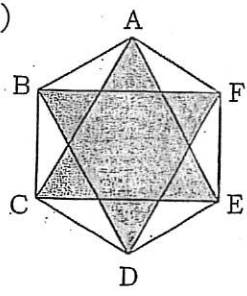
1

あみめ
網目部分の面積を求めなさい。

(1)

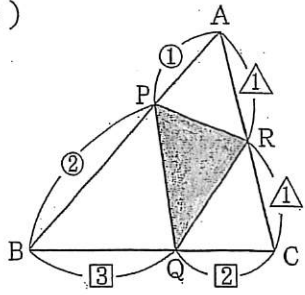


(2)



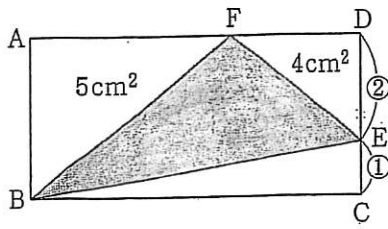
正六角形
ABCDEF
の面積は
 108 cm^2 .

(3)



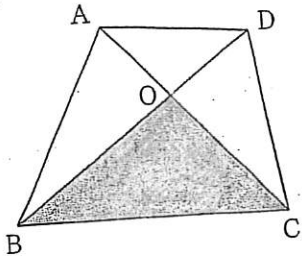
三角形
ABCの
面積は
 16cm^2 .

(4)



長方形 ABCD

(5)



三角形 ABC, CDA, DAB の
面積は 16cm^2 , 8cm^2 , 9cm^2 .

(6)

