

中学受験

(演習用)

実戦的解法による

分野別算数 1000

ファイル No. 439

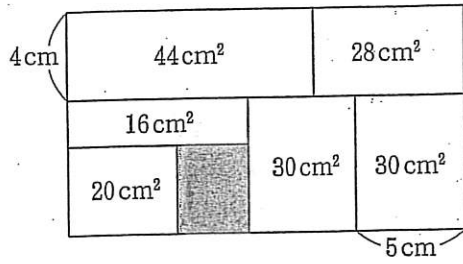
32-R 面積(1)

中受ゼミ G

1

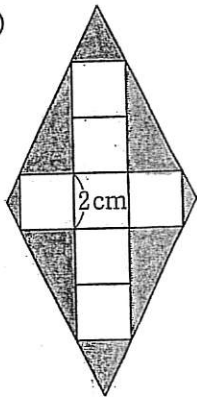
あみめ
網目部分の面積を求めなさい。

(1)



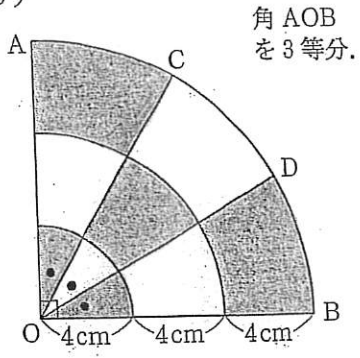
長方形を7つの長方形に分けた。

(2)

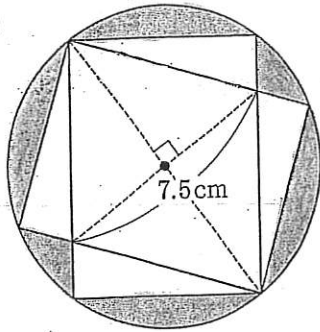


正方形を7つ
並べて作った
ひし形。

(3)

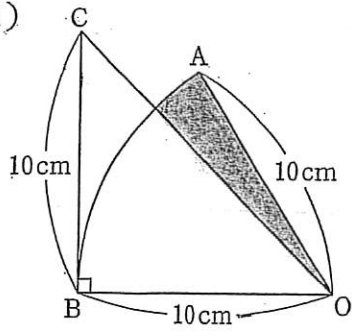


(4)



2つの長方形は縦^{たて}8 cm, 横6 cm.

(5)



おうぎ形 OAB で、曲線
 AB の長さは 10 cm .