

中学受験

(演習用)

実戦的解法による

分野別算数 1000

ファイル No. 431

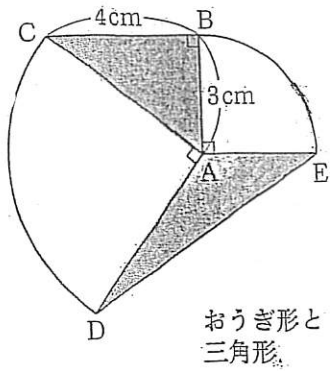
32-J 面積(1)

中受ゼミ G

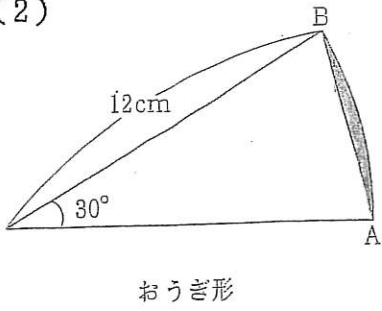
1

あそめ
網目部分の面積を求めなさい。円周率は3.14とします。

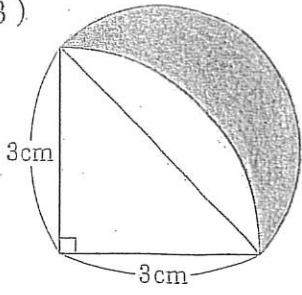
(1)



(2)

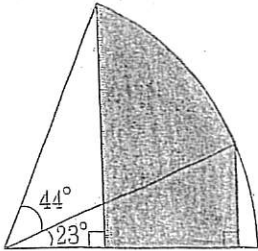


(3)



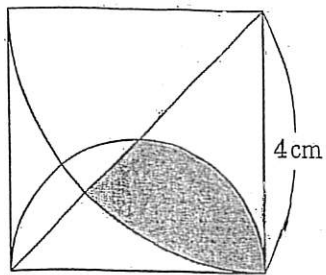
おうぎ形と半円

(4)



半径 3cm のおうぎ形

(5)



正方形の中に、半円と中心角
 90° のおうぎ形がある。