

中学受験

(演習用)

実戦的解法による

分野別算数 1000

ファイル No. 427

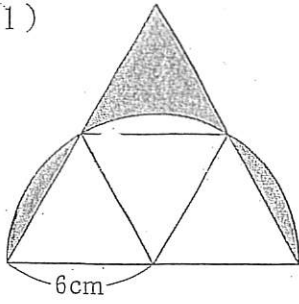
32-F 面積(1)

中受ゼミ G

1

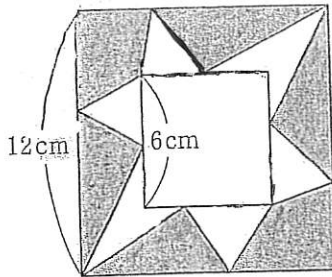
網目部分の面積を求めなさい。円周率は3.14とします。

(1)



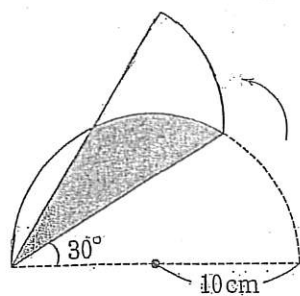
1辺6cmの正三角形4つ
と半径6cmの半円。

(2)



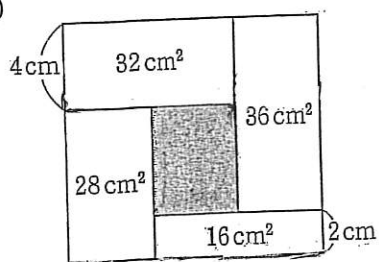
2つの正方形の辺
どうしは平行。

(3)



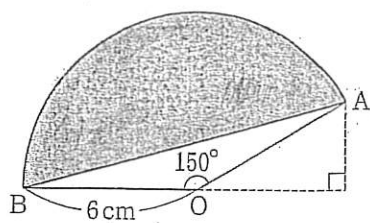
半径 10 cm の半円の紙を
折ったとき重なる部分.

(4)



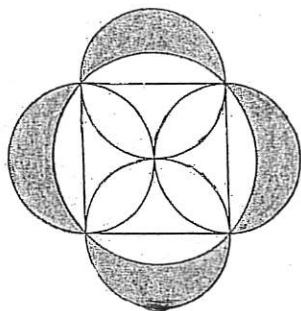
長方形を 5 つの長方形に分けた.

(5)



半径 6 cm のおうぎ形 OAB.

(6)



1 辺 20 cm の正方形と円