

中学受験

(演習用)

実戦的解法による

分野別算数 1000

ファイル No. 426

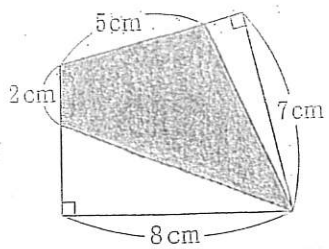
32-E 面積(1)

中受ゼミ G

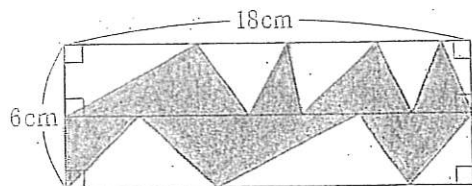
1

網目部分の面積を求めなさい。円周率は3.14とします。

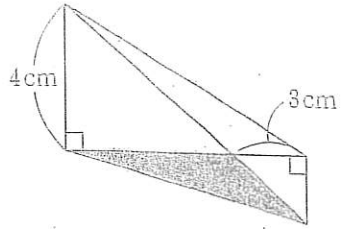
(1)



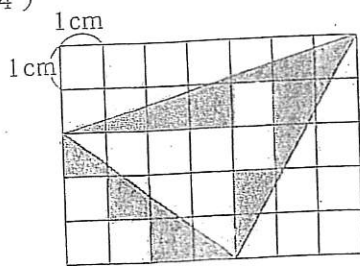
(2)



(3)

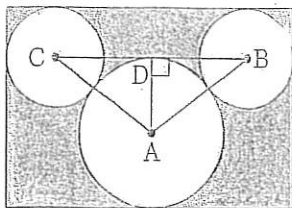


(4)



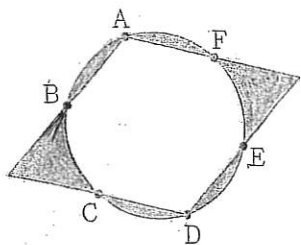
正方形をしきつめた。

(5)



長方形で、DはBCのまん中。
 $AB=5\text{cm}$, $AD=3\text{cm}$, $BD=4\text{cm}$

(6)



半径6cmの円周を6等分
する点を通る四角形。