

中学受験

(演習用)

実戦的解法による

分野別算数 1000

ファイル No. 402

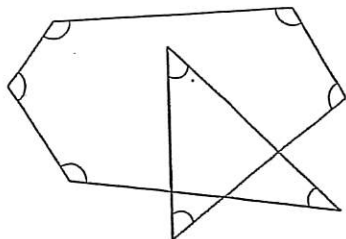
31-G 角度

中受ゼミ G

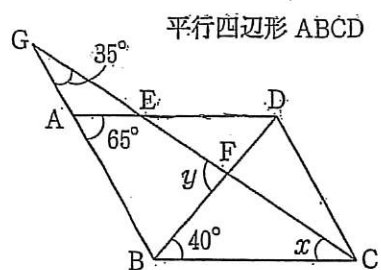
1

(1)は印をつけた角度の和を求め、他は x や y の角度を求めなさい。

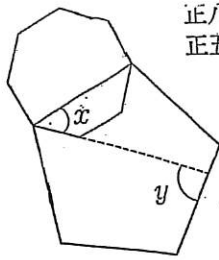
(1)



(2)

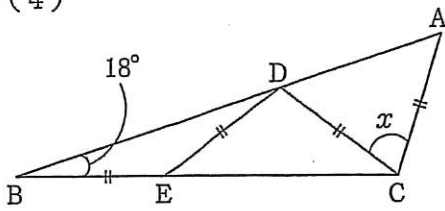


(3)



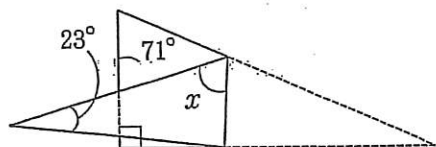
正八角形と
正五角形

(4)



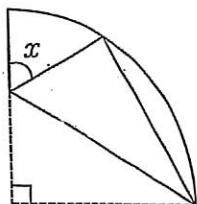
$$BE=ED=DC=CA$$

(5)



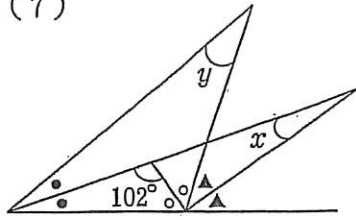
直角三角形を折り曲げた。

(6)



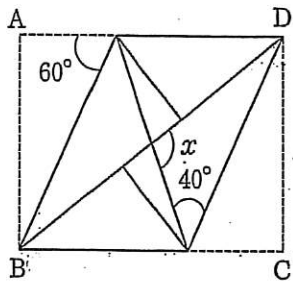
中心角 90° のおどぎ形
を折り返した。

(7)



同じ印の角は大きさが等しい。

(8)



長方形
ABCDを、
辺AB、辺
DCが対角
線BDに重
なるように
折り返した。

(9)

